


3. MÅL TID



Træk et kort.

Gæt og mål, hvor lang tid det tager at gøre, hvad kortet viser.



3. Mål tid






Nr. 1

Skriv 10 5-taller

Nr. 5

Tegn

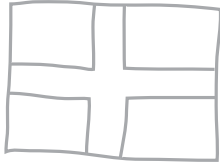
2  3  4 

Nr. 2

Skriv 10 3-taller

Nr. 6

Tegn 3




Nr. 3

Skriv 10 8-taller

Nr. 7

Tegn 10



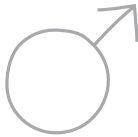
Nr. 4

Skriv

0123456789

Nr. 8

Tegn 7



Kontext 1B · Kopmappe · Bestillingsnr.: 90.24113 · © forlag Malling Beck



3. Mål tid

39

Nr. 9

Tegn

Nr. 13

Tegn 2



Nr. 10

Tegn

Nr. 14

Skriv 5 ulige tal

Nr. 11

Tegn 2

Nr. 15

Skriv 5 lige tal

Nr. 12

Tegn 6

Nr. 16

Hop 10 sprællemænd

Kontext 1B · Kopimappe · Bestillingsnr.: 9024113 · © forlag Malling Beck



3. Mål tid

40

Nr. 17

Hop 20
sprællemænd

Nr. 21

Tegn



Nr. 18

Hop 20 hop
på venstre ben

Nr. 22



Nr. 19

Hop 20 hop
på højre ben

Nr. 23

Skriv

10 20 30 40 50
60 70 80 90 100

Nr. 20

Hop 30 hop
på stedet

Nr. 24

Tegn





3. Måltid

Kort nr.	Gæt	Målt tid

Kontext 1B · Kopimappe · Bestillingsnr.: 9024113 · © forlag Malling Beck

.....
NAVN

.....
KLASSE