




4. TÅRNE



Du skal bruge:

Kuber

Arbejdsark:

139	140	141
-----	-----	-----

Tag kuber i forskellige farver

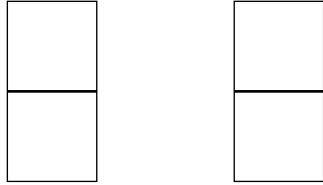
Hvor mange forskellige tårne kan du bygge, når du skal bruge to kuber? Tre kuber? Fire kuber?



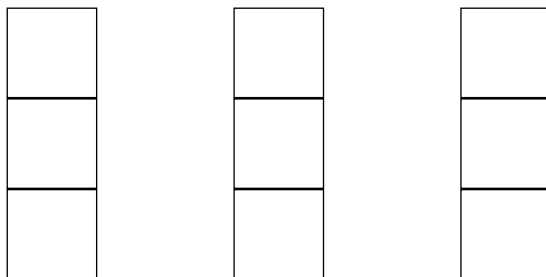
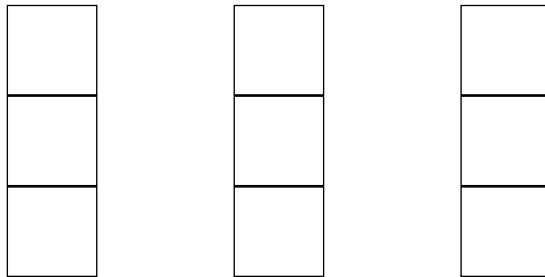
4. Tårne

139

Hvor mange 2-tårne med to farver?



Hvor mange 3-tårne med tre farver?





4. Tårne

140

Hvor mange 4-tårne med fire farver?

Kontext 2A · Kopimappe · Bestillingsnr.: 9024203 · © forlag Malling Beck



4. Tårne

Hvor mange 5-tårne med fem farver?

Kontext 2A · Kopimappe · Bestillingsnr.: 9024203 · © forlag Malling Beck