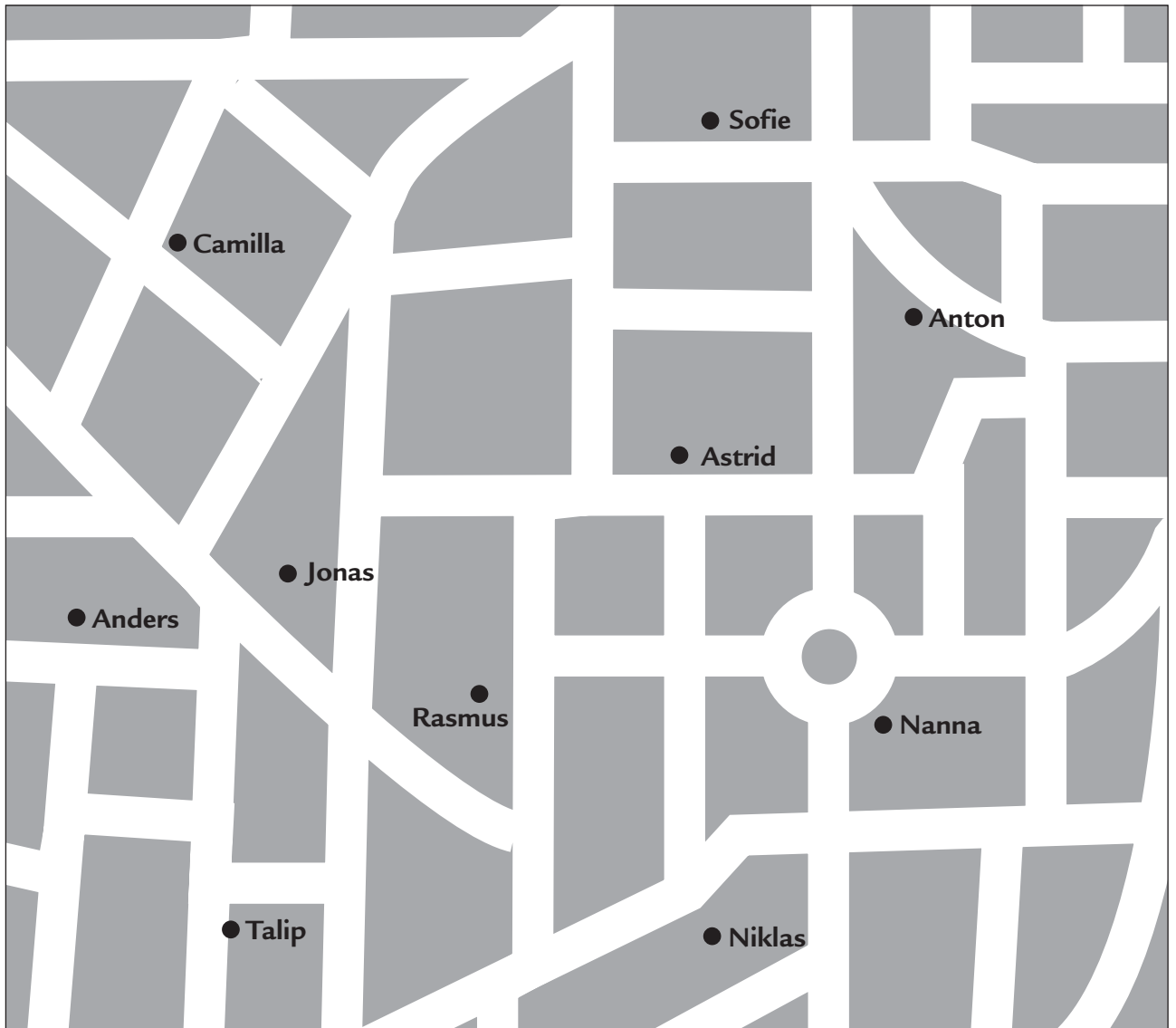


# Hvor langt er der?



Kontex 2B · Kopimappe · Bestillingsnr.: 9024213 · © forlag Malling Beck

100 m

Fra \_\_\_\_\_ til \_\_\_\_\_ er der cirka \_\_\_\_\_ m

Fra \_\_\_\_\_ til \_\_\_\_\_ er der cirka \_\_\_\_\_ m

Fra \_\_\_\_\_ til \_\_\_\_\_ er der cirka \_\_\_\_\_ m

Fra \_\_\_\_\_ til \_\_\_\_\_ er der cirka \_\_\_\_\_ m

Fra \_\_\_\_\_ til \_\_\_\_\_ er der cirka \_\_\_\_\_ m

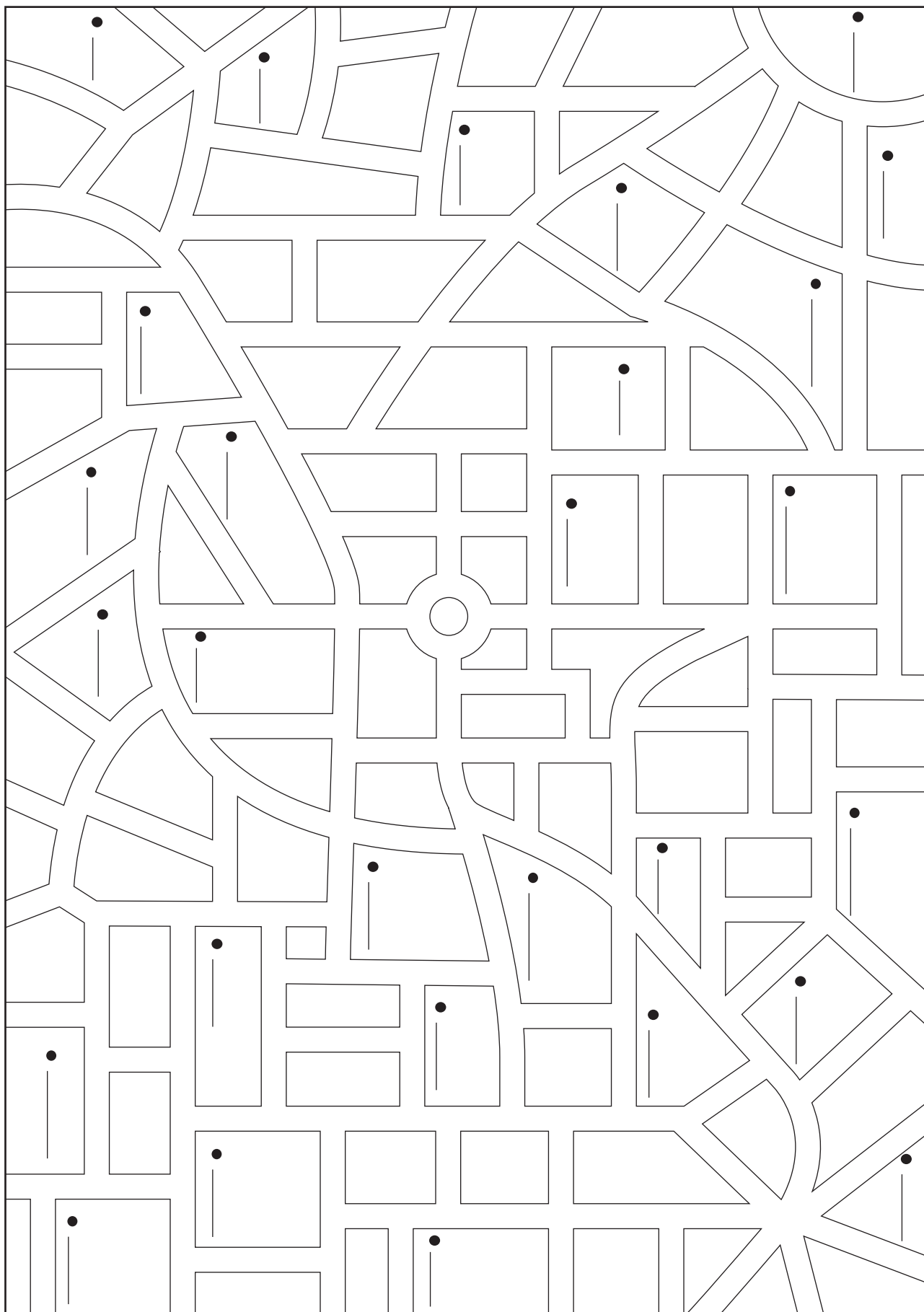
Fra \_\_\_\_\_ til \_\_\_\_\_ er der cirka \_\_\_\_\_ m

Der er længst mellem \_\_\_\_\_ og \_\_\_\_\_

NAVN \_\_\_\_\_

KLASSE \_\_\_\_\_

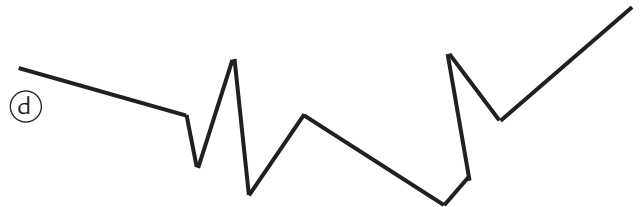

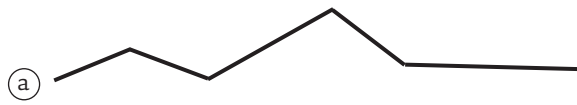
# Kort over \_\_\_\_\_



Kontex 2B · Kopmappe · Bestillingsnr.: 9024213 · © forlag Malling Beck

# Mål

Mål linjerne. Skriv den dobbelte længde.



Linje	Længde	Dobbelt så lang
a	_____ cm _____ mm	_____ cm _____ mm
b	_____ cm _____ mm	_____ cm _____ mm
c	_____ cm _____ mm	_____ cm _____ mm
d	_____ cm _____ mm	_____ cm _____ mm

Tegn linjerne. Skriv den halve længde.

Linje	Længde	Halv længde
e	14 cm 8 mm	_____ cm _____ mm
f	8 cm 4 mm	_____ cm _____ mm
g	11 cm 2 mm	_____ cm _____ mm
h	10 cm 6 mm	_____ cm _____ mm

Kontex 2B · Kopimappe · Bestillingsnr.: 9024213 · © forlag Malling Beck

# Omkreds

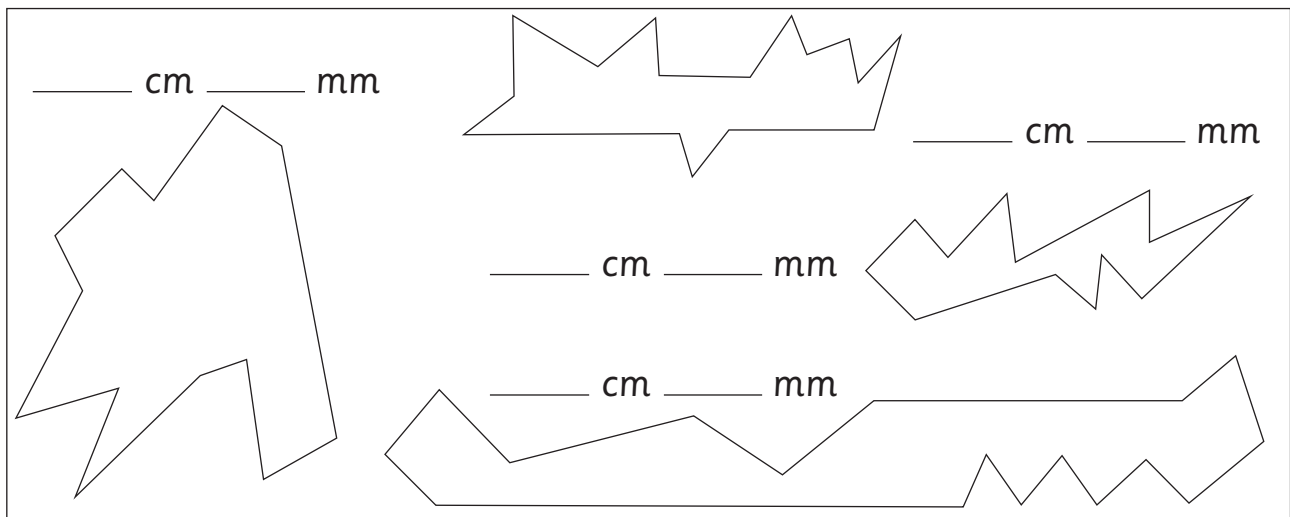
Tegn en figur med omkredsen  
14 cm 4 mm.




Tegn en figur med omkredsen  
20 cm 8 mm.




Mål omkredsen.



Tegn selv. Mål omkredsen.



# Rundt om søen



Hvor langt?

1 runde	_____ km _____ m	<u>15</u> runder	_____ km _____ m
2 runder	_____ km _____ m	<u>40</u> runder	_____ km _____ m
_____ runder	<u>2</u> km <u>400</u> m	_____ runder	<u>30</u> km <u>600</u> m
_____ runder	<u>4</u> km <u>200</u> m	_____ runder	_____ km _____ m
10 runder	_____ km _____ m	_____ runder	_____ km _____ m

Dobbelt så langt og halvt så langt.

Løbet	Dobbelt
1025 m	
3150 m	
4225 m	
	7 km
	1800 m
	3600 m

Løbet	Halvdelen
900 m	
1250 m	
	1100 m
3000 m	
	750 m
3 km	

Kontex 2B · Kopimappe · Bestillingsnr.: 9024213 · © forlag Malling Beck

# Udfyld køreplanen

98

Toget har kørt	Tidsplan
Kvadratby 0 km	16.27
Torup 12 km 100 m	16.54
Kilomagle 23 km 300 m	17.14
Tremmerup 35 km 700 m	17.38
Målev 49 km	17.58
Otterup 51 km 500 m	18.18
Syvkilde 63 km 900 m	18.39
Tallerød 76 km	19.01
Nistrup 87 km 300 m	19.21
Femhøj 99 km 600 m	19.39
Gramsted 125 km	19.57
Talby 139 km 100 m	20.13

Tilbage til Kvadratby	
Talby 0 km	20.30
Gramsted	
Femhøj	
Nistrup	
Tallerød	
Syvkilde	
Otterup	
Målev	
Tremmerup	
Kilomagle	
Torup	
Kvadratby 139 km 100 m	

Hvor langt er der mellem

Tremmerup  
og Torup? \_\_\_\_\_

Gramsted  
og Kilomagle? \_\_\_\_\_

Tallerød  
og Målev? \_\_\_\_\_

Syvkilde  
og Nistrup? \_\_\_\_\_

Femhøj  
og Otterup? \_\_\_\_\_

Hvor lang tid tager det at komme

Fra Kvadratby  
til Talby? \_\_\_\_\_ t \_\_\_\_\_ min.

Fra Kilomagle  
til Syvkilde? \_\_\_\_\_ t \_\_\_\_\_ min.

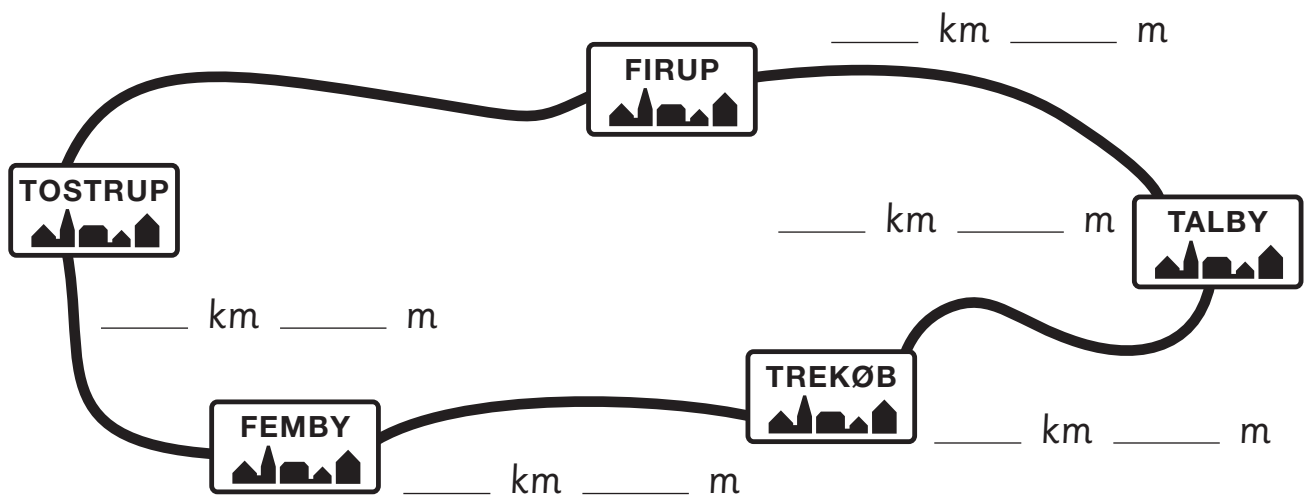
Fra Torup  
til Gramsted? \_\_\_\_\_ t \_\_\_\_\_ min.

Fra Målev  
til Femhøj? \_\_\_\_\_ t \_\_\_\_\_ min.

Fra Kilomagle  
til Nistrup? \_\_\_\_\_ t \_\_\_\_\_ min.

# Hvor langt er der?

Find afstanden mellem byerne. Se skemaet.



	Talby	Firup	Tostrup	Femby	Trekøb
Talby	0 km 0 m	14 km 500 m			
Firup		0 km 0 m	35 km 700 m		
Tostrup				11 km 300 m	
Femby					13 km 250 m
Trekøb	23 km 800 m				0 km 0 m

Hvor langt er der?

fra Talby til Tostrup? \_\_\_\_\_ km \_\_\_\_\_ m

fra Tostrup til Trekøb? \_\_\_\_\_ km \_\_\_\_\_ m

fra Femby til Talby? \_\_\_\_\_ km \_\_\_\_\_ m

Find den korteste vej  
fra Trekøb til Firup? \_\_\_\_\_ km \_\_\_\_\_ m

Kontex 2B · Kopimappe · Bestillingsnr.: 9024213 · © forlag Malling Beck