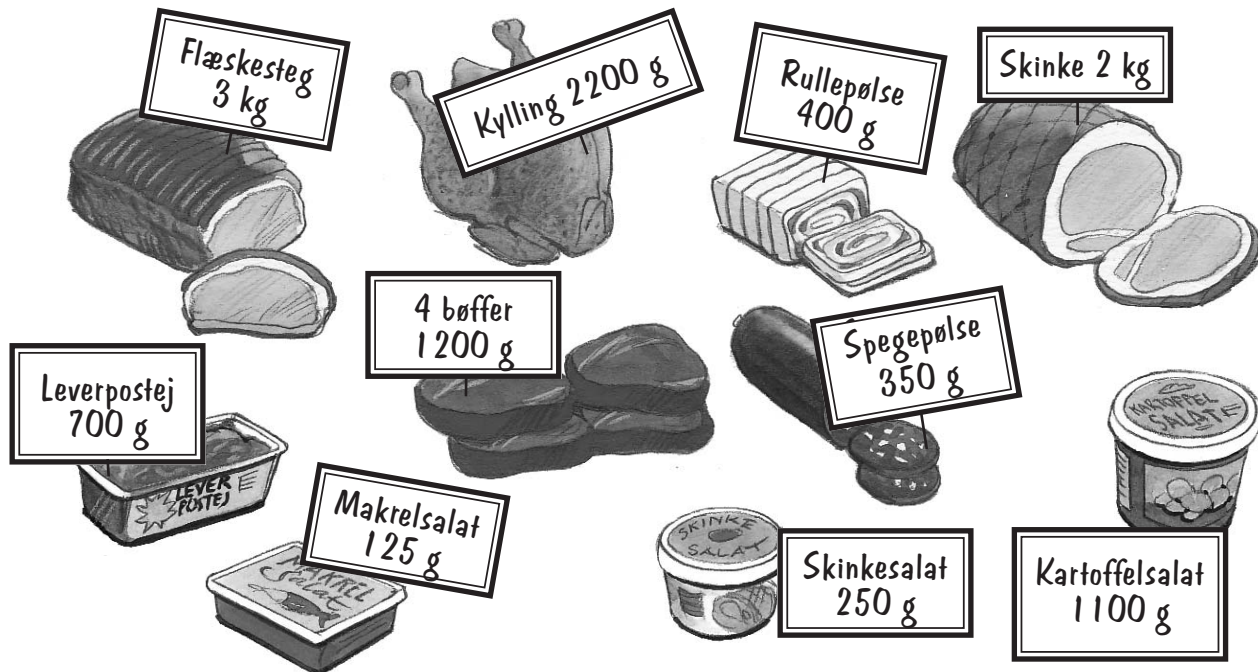


Hos slagteren

100



Hvad vejer det i alt?

_____ kg _____ g

_____ kg _____ g

_____ kg _____ g

Hvad vejer tilsammen?

2 kg 825 g

1950 g

Ligevægt

Tegn lodder, så der er ligevægt.



 _____ g 3 kg 514 g	 _____ g _____ kg 753 g
 _____ kg _____ g	 _____ kg _____ g
 _____ g 5 kg 13 g	 _____ g 2 kg 6 g

Kontex 2B · Kopimappe · Bestillingsnr.: 9024213 · © forlag Malling Beck

Hvor stor er vægtforskellen?

 _____	 _____	 _____
-----------	-----------	-----------

Kalender

Kontext 2B · Kopmappe · Bestillingsnr.: 9024213 · © forlag Malling Beck

	JANUAR	FEBRUAR	MARTS	APRIL	MAJ	JUNI	JULI	AUGUST	SEPTEMBER	OKTOBER	NOVEMBER	DECEMBER
S 1		O 1	O 1	L 1	M 1	T 1	L 1	T 1	F 1	S 1	O 1	F 1
M 2	T 2	T 2	T 2	S 2	T 2	F 2	S 2	O 2	L 2	M 2	T 2	L 2
T 3	F 3	F 3	M 3	M 3	O 3	L 3	M 3	T 3	S 3	T 3	F 3	S 3
O 4	L 4	L 4	T 4	T 4	T 4	S 4	T 4	F 4	M 4	O 4	L 4	M 4
T 5	S 5	S 5	O 5	O 5	F 5	M 5	O 5	L 5	T 5	T 5	S 5	T 5
F 6	M 6	M 6	T 6	T 6	L 6	T 6	T 6	S 6	O 6	F 6	M 6	O 6
L 7	T 7	T 7	F 7	F 7	S 7	O 7	F 7	M 7	T 7	L 7	T 7	T 7
S 8	O 8	O 8	L 8	L 8	M 8	T 8	L 8	T 8	F 8	S 8	O 8	F 8
M 9	T 9	T 9	S 9	S 9	T 9	F 9	S 9	O 9	L 9	M 9	T 9	L 9
T 10	F 10	F 10	M 10	M 10	O 10	L 10	M 10	T 10	S 10	T 10	F 10	S 10
O 11	L 11	L 11	T 11	T 11	T 11	S 11	T 11	F 11	M 11	O 11	L 11	M 11
T 12	S 12	S 12	O 12	O 12	F 12	M 12	O 12	L 12	T 12	T 12	S 12	T 12
F 13	M 13	M 13	T 13	T 13	L 13	T 13	T 13	S 13	O 13	F 13	M 13	O 13
L 14	T 14	T 14	F 14	F 14	S 14	O 14	F 14	M 14	T 14	L 14	T 14	T 14
S 15	O 15	O 15	L 15	L 15	M 15	T 15	L 15	T 15	F 15	S 15	O 15	F 15
M 16	T 16	T 16	S 16	S 16	T 16	F 16	S 16	O 16	L 16	M 16	T 16	L 16
T 17	F 17	F 17	M 17	M 17	O 17	L 17	M 17	T 17	S 17	T 17	F 17	S 17
O 18	L 18	L 18	T 18	T 18	T 18	S 18	T 18	F 18	M 18	O 18	L 18	M 18
T 19	S 19	S 19	O 19	O 19	F 19	M 19	O 19	L 19	T 19	T 19	S 19	T 19
F 20	M 20	M 20	T 20	T 20	L 20	T 20	T 20	S 20	O 20	F 20	M 20	O 20
L 21	T 21	T 21	F 21	F 21	S 21	O 21	F 21	M 21	L 21	L 21	T 21	T 21
S 22	O 22	O 22	L 22	L 22	M 22	T 22	L 22	T 22	S 22	S 22	O 22	F 22
M 23	T 23	T 23	S 23	S 23	T 23	F 23	S 23	O 23	L 23	M 23	T 23	L 23
T 24	F 24	F 24	M 24	M 24	O 24	L 24	M 24	T 24	S 24	T 24	F 24	S 24
O 25	L 25	L 25	T 25	T 25	T 25	S 25	T 25	F 25	M 25	O 25	L 25	M 25
T 26	S 26	S 26	O 26	O 26	F 26	M 26	O 26	L 26	T 26	T 26	S 26	T 26
F 27	M 27	M 27	T 27	T 27	L 27	T 27	T 27	S 27	O 27	F 27	M 27	O 27
L 28	T 28	T 28	F 28	F 28	S 28	O 28	F 28	M 28	L 28	L 28	T 28	T 28
S 29	O 29	O 29	L 29	L 29	M 29	T 29	L 29	T 29	S 29	S 29	O 29	F 29
M 30	T 30	T 30	S 30	S 30	T 30	F 30	S 30	O 30	L 30	M 30	T 30	L 30
T 31	F 31	F 31	T 31	T 31	O 31	M 31	M 31	T 31	S 31	T 31	O 31	S 31

Dage og datoer

103

Hvor mange dage?

17.01 → 12/3 _____ dage	14/6 → 2. oktober _____ dage
24/2 → 1. december _____ dage	7/5 → 26.09 _____ dage
_____ → _____ → <u>55</u> dage	_____ → _____ → <u>112</u> dage
_____ → _____ → <u>200</u> dage	_____ → _____ → <u>99</u> dage
_____ → 17/10 → <u>76</u> dage	_____ → 11.11 → <u>41</u> dage

Jakob har fødselsdag på dag nr. 213.
Hvilken dag og dato er det? _____

Clara har fødselsdag 37 dage senere.
Hvilken dag og dato er det? _____

Sæt pile til det rigtige sted på tallinjen.









Timeline showing months and years from 2007 to 2009. Labels to be placed in boxes:

- december 2006
- januar 2008
- november 2007
- marts 2007
- juni 2008
- december 2008
- maj 2007
- april 2009
- maj 2008
- februar 2009
- juli 2007
- oktober 2006
- september 2008
- oktober 2007
- august 2007









Kontex 2B · Kopimappe · Bestillingsnr.: 9024213 · © forlag Malling Beck

Klokken

Hvad er klokken?

			
Kl. _____ _____	Kl. _____ _____	Kl. _____ _____	Kl. _____ _____
			
Kl. _____ _____	Kl. _____ _____	Kl. _____ _____	Kl. _____ _____

Hvor lang tid er der gået?

 →  _____ t _____ min. Kl. _____ Kl. _____	 →  _____ t _____ min. Kl. _____ Kl. _____
 →  _____ t _____ min. Kl. _____ Kl. _____	 →  _____ t _____ min. Kl. _____ Kl. _____

Kontext 2B · Kopmappe · Bestillingsnr.: 9024213 · © forlag Malling Beck

Tid


105

Før, nu og efter.

25 min. før	NU	Et kvarter efter
	6.03	
14.30		
		18.10
	8.05	
21.15		

8 min. før	NU	En halv time efter
		4.50
	19.20	
22.30		
	8.40	
11.40		

Lav ny køreplan.

Køreplan for Talbytoget	
	
Kvadratby	8.27
Torup	8.44
Kilomagle	9.04
Tremmerup	9.18
Målev	9.36
Otterup	9.51
Syvkilde	10.07
Tallerød	10.22
Nistrup	10.29
Femhøj	10.41
Gramsted	11.04
Talby	11.23

Køreplan for Talbytoget	
	
Kvadratby	
Torup	
Kilomagle	
Tremmerup	
Målev	
Otterup	
Syvkilde	
Tallerød	
Nistrup	
Femhøj	
Gramsted	
Talby	17.35

Sæt pile til flasken

Kontex 2B · Kopmappe · Bestillingsnr.: 9024213 · © forlag Malling Beck

3 l 3 dl

35 dl

2 liter

30 dl

2 l 5 dl

17 dl

3 dl

27 dl

33 dl


25 dl

2 l 8 dl

14 dl

2 l 9 dl

1 l 4 dl



2 l 3 dl

15 dl

10 dl

1 liter

18 dl

1 l 1 dl

28 dl

20 dl

31 dl

28 dl

23 dl

19 dl

2 l 8 dl

5 dl

Liter og deciliter

Hvor meget er der drukket?



_____ dl _____ dl _____ dl _____ dl _____ dl _____ dl _____ dl _____ dl

Udfyld de tomme felter

<u>36</u> dl = _____ l _____ dl	<u>73</u> dl = _____ l _____ dl
<u>48</u> dl = _____ l _____ dl	<u>90</u> dl = _____ l _____ dl
_____ dl = <u>5</u> l <u>8</u> dl	_____ dl = <u>4</u> l <u>5</u> dl
_____ dl = <u>3</u> l <u>2</u> dl	_____ dl = <u>5</u> l <u>0</u> dl
<u>50</u> dl = _____ l _____ dl	<u>30</u> dl = _____ l _____ dl

Hvor mange krus saft kan der blive?

4 liter saft

2 dl _____ krus

4 dl _____ krus

5 dl _____ krus

8 dl _____ krus

Kontex 2B · Kopimappe · Bestillingsnr.: 9024213 · © forlag Malling Beck