

# Bornholm

78

## Tag til solskinsøen Bornholm



|                | Voksen  | Barn<br>0-11 år | Barn<br>12-15 år |
|----------------|---------|-----------------|------------------|
| Tog og færge 1 | 224 kr. | 0 kr.           | 112 kr.          |
| Bus og færge 1 | 218 kr. | 0 kr.           | 109 kr.          |
| Færge 2        | 233 kr. | 0 kr.           | 233 kr.          |
| Fly            | 859 kr. | 559 kr.         | 559 kr.          |



### 1 Udregn prisen for at rejse til Bornholm for de fire familier.

|               | Familie 1:<br>1 voksen<br>1 barn, 12 år | Familie 2:<br>2 voksne<br>1 barn, 3 år | Familie 3:<br>1 voksen<br>2 børn, 8 og<br>12 år | Familie 3:<br>2 voksne<br>3 børn, 7, 12<br>og 15 år |
|---------------|---|--|---|---|
| Tog + færge 1 | kr.                                     | kr.                                    | kr.   | kr.   |
| Bus + færge 1 | kr.                                     | kr.                                    | kr.   | kr.   |
| Færge 2       | kr.                                     | kr.                                    | kr.   | kr.   |
| Fly           | kr.                                     | kr.                                    | kr.   | kr.   |



### 2 Regn ud, hvad det vil koste for de fire familier at overnatte en uge på de tre campingpladser.

|                       | Familie 1:<br>1 voksen<br>1 barn, 12 år | Familie 2:<br>2 voksne<br>1 barn, 3 år | Familie 3:<br>1 voksen<br>2 børn, 8 og<br>12 år | Familie 3:<br>2 voksne<br>3 børn, 7, 12<br>og 15 år |
|-----------------------|---|--|---|---|
| Kofod<br>Camping      | kr.                                     | kr.                                    | kr.   | kr.   |
| Dueodde<br>Camping    | kr.                                     | kr.                                    | kr.   | kr.   |
| Hammershus<br>Camping | kr.                                     | kr.                                    | kr.   | kr.   |

# Mere om Bornholm



**1** Udfyld skemaet, så det viser, hvor langt der er mellem byerne.

|           | Rønne | Aakirkeby | Nexø | Svaneke | Gudhjem | Allinge | Hasle |
|-----------|-------|-----------|------|---------|---------|---------|-------|
| Rønne     |       | km        | km   | km      | km      | km      | km    |
| Aakirkeby | km    |           | km   | km      | km      | km      | km    |
| Nexø      | km    | km        |      | km      | km      | km      | km    |
| Svaneke   | km    | km        | km   |         | km      | km      | km    |
| Gudhjem   | km    | km        | km   | km      |         | km      | km    |
| Allinge   | km    | km        | km   | km      | km      |         | km    |
| Hasle     | km    | km        | km   | km      | km      | km      |       |

Her ser du, hvor mange der cirka bor i de syv største byer.

|                            |               |
|----------------------------|---------------|
| <b>Rønne</b> .....         | <b>14 100</b> |
| <b>Aakirkeby</b> .....     | <b>2 100</b>  |
| <b>Nexø</b> .....          | <b>3 800</b>  |
| <b>Svaneke</b> .....       | <b>1 100</b>  |
| <b>Gudhjem</b> .....       | <b>800</b>    |
| <b>Allinge-Sandvig</b> ... | <b>1 900</b>  |
| <b>Hasle</b> .....         | <b>1 800</b>  |

**2** Hvor mange bor der tilsammen i ...

Svaneke og Gudhjem? \_\_\_\_\_

Hasle og Allinge-Sandvig? \_\_\_\_\_

Aakirkeby og Nexø? \_\_\_\_\_

Rønne og Svaneke? \_\_\_\_\_

Gudhjem og Hasle? \_\_\_\_\_

Nexø og Rønne? \_\_\_\_\_

de tre mindste byer? \_\_\_\_\_

de tre største byer? \_\_\_\_\_

alle byerne? \_\_\_\_\_

# Kajs cykler

Kaj holder regnskab med, hvor mange cykler han lejer ud, og hvor mange penge han tjener. Hjælp ham med at lave regnskabet for en uge. I skemaet i opgave 1 kan du se, hvor mange cykler han har lejet ud i løbet af ugen. Cyklerne er lejet ud for én dag.

|        | Cykel<br> | Mountainbike<br> | Tandem-cykel<br> |
|--------|--|---|---|
| 1 dag  | 60 kr.   | 65 kr.  | 125 kr.   |
| 2 dage | 110 kr.  | 130 kr.   | 250 kr.   |
| 4 dage | 190 kr.  | 240 kr.   | 415 kr.   |
| 1 uge  | 210 kr.  | 295 kr.   | 485 kr.   |
| 2 uger | 320 kr.  | 420 kr.   | 680 kr.   |

**1** Udfyld skemaet. Brug lommeregneren.

|         | Cykel<br> | Mountainbike<br> | Tandem-cykel<br> | Hvor meget har Kaj tjent? |
|---------|--|---|---|---------------------------|
| Mandag  | 15   | 6   | 4   | kr.                       |
| Tirsdag | 21   | 5   | 3   | kr.                       |
| Onsdag  | 18   | 8   | 1   | kr.                       |
| Torsdag | 27   | 11  | 6   | kr.                       |
| Fredag  | 24   | 10  | 5   | kr.                       |
| Lørdag  | 16   | 21  | 2   | kr.                       |
| Søndag  | 22   | 9   | 7   | kr.                       |

**2** Hvor meget har Kaj tjent på de tre slags cykler i løbet af ugen? Brug evt. lommeregneren.

|                          |  |
|--------------------------|--|
| Cykler: _____ kr.        |  |
| Mountainbikes: _____ kr. |  |
| Tandemcykler: _____ kr.  |  |
| I alt: _____ kr.         |  |

# Plus 1

**81**

**1** Regn stykkerne.

|             |             |              |               |
|-------------|-------------|--------------|---------------|
| $782 + 419$ | $238 + 517$ | $1028 + 369$ | $1135 + 2482$ |
|             |             |              |               |
|             |             |              |               |
|             |             |              |               |
| $628 + 759$ | $918 + 693$ | $429 + 3861$ | $3792 + 4159$ |
|             |             |              |               |
|             |             |              |               |
|             |             |              |               |

**2** Udfyld skemaet.

|      |     |      |     |      |      |      |      |      |
|------|-----|------|-----|------|------|------|------|------|
| +    | 826 | 743  | 906 | 2308 | 3615 |      |      | 9312 |
| 296  |     |      |     |      |      | 5000 |      |      |
| 1019 |     |      |     |      |      |      | 8000 |      |
| 4628 |     |      |     |      |      |      |      |      |
|      |     | 6048 |     |      |      |      |      |      |

**3** Skriv de næste tal i rækken.

|    |    |    |  |     |  |  |    |     |
|----|----|----|--|-----|--|--|----|-----|
| 30 | 43 |    |  |     |  |  |    |     |
| 10 |    | 58 |  |     |  |  |    |     |
| 15 |    |    |  |     |  |  | 50 |     |
|    |    |    |  |     |  |  | 91 | 100 |
| 20 |    |    |  | 100 |  |  |    |     |

Kontext 3A · Kopmappe · Bestillingsnr.: 9024303 · © forlag Malling Beck

# Plus 2

1 Udfyld de tomme pladser.

$$\begin{array}{r} 37\Box \\ + 5\Box6 \\ \hline \Box94 \end{array}$$

$$\begin{array}{r} \Box18 \\ + 4\Box3 \\ \hline 68\Box \end{array}$$

$$\begin{array}{r} 26\Box \\ + \Box43 \\ \hline 8\Box2 \end{array}$$

$$\begin{array}{r} \Box71 \\ + 20\Box \\ \hline 8\Box0 \end{array}$$

$$\begin{array}{r} 79\Box \\ + 4\Box2 \\ \hline 1\Box75 \end{array}$$

$$\begin{array}{r} 264\Box \\ + 7\Box28 \\ \hline \Box977 \end{array}$$

$$\begin{array}{r} 6\Box02 \\ + 349\Box \\ \hline 95\Box0 \end{array}$$

$$\begin{array}{r} 420\Box \\ + \Box971 \\ \hline 71\Box7 \end{array}$$

$$\begin{array}{r} 5\Box40 \\ + \Box683 \\ \hline 1102\Box \end{array}$$

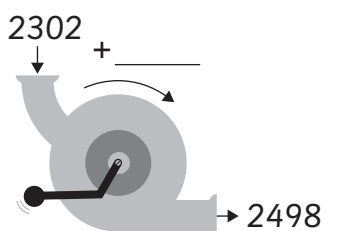
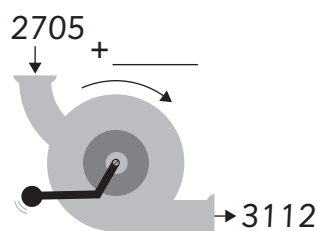
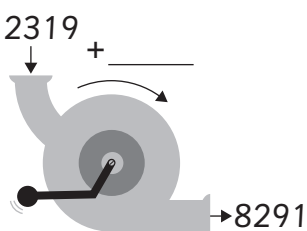
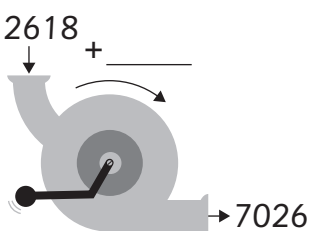
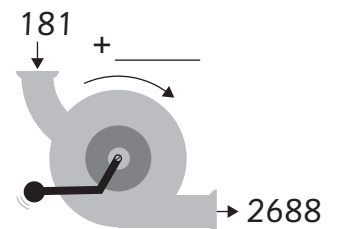
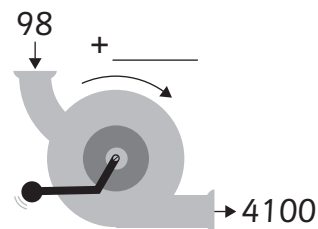
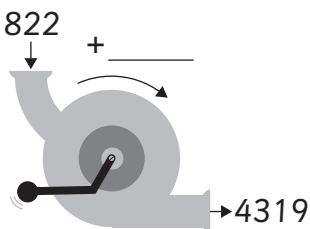
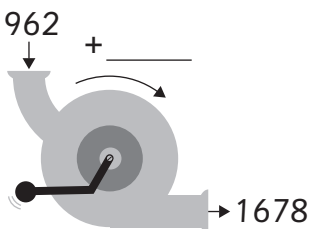
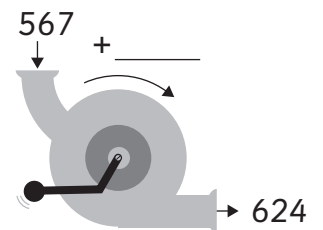
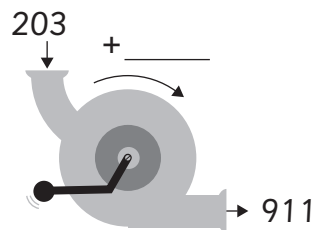
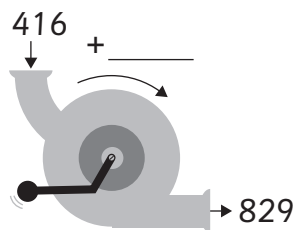
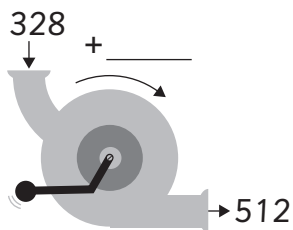
$$\begin{array}{r} 46\Box9 \\ + \Box08\Box \\ \hline 6\Box05 \end{array}$$

$$\begin{array}{r} 2\Box7\Box \\ + \Box067 \\ \hline 77\Box0 \end{array}$$

$$\begin{array}{r} 1\Box27 \\ + 39\Box6 \\ \hline \Box55\Box \end{array}$$

$$\begin{array}{r} 648\Box \\ + \Box2\Box0 \\ \hline \Box6\Box53 \end{array}$$

2 Hvad sker der i maskinen?



Kontext 3A · Kopmappe · Bestillingsnr.: 9024303 · © forlag Malling Beck



# Andre plusstykker

84

1 Udfyld de tomme pladser. Kontroller på lommeregneren.

|  |   |  |
|--|---|--|
| $325 + \underline{\hspace{2cm}} = 920$ | $269 + \underline{\hspace{2cm}} = 1380$ | $\underline{\hspace{2cm}} + 1219 = 4681$ |
| $\underline{\hspace{2cm}} + 282 = 456$ | $\underline{\hspace{2cm}} + 531 = 2800$ | $4300 + \underline{\hspace{2cm}} = 6260$ |
| $127 + \underline{\hspace{2cm}} = 875$ | $765 + \underline{\hspace{2cm}} = 3411$ | $\underline{\hspace{2cm}} + 4090 = 5711$ |
| $\underline{\hspace{2cm}} + 498 = 913$ | $\underline{\hspace{2cm}} + 839 = 4820$ | $6316 + \underline{\hspace{2cm}} = 9281$ |
| $276 + \underline{\hspace{2cm}} = 608$ | $900 + \underline{\hspace{2cm}} = 9871$ | $\underline{\hspace{2cm}} + 2601 = 7079$ |

2 Tallene i kassen skal bruges til plusstykker.  
Brug lommeregneren til at finde de rigtige tal.



| 483  | 672   | 1328 | 1012 | 937 | 794 | 3142 | 2621 |
|--|---|------|------|-----|-----|------|------|
| $\underline{\hspace{2cm}} + \underline{\hspace{2cm}} = 1277$ | $\underline{\hspace{2cm}} + \underline{\hspace{2cm}} + \underline{\hspace{2cm}} = 3053$ |      |      |     |     |      |      |
| $\underline{\hspace{2cm}} + \underline{\hspace{2cm}} = 1943$ | $\underline{\hspace{2cm}} + \underline{\hspace{2cm}} + \underline{\hspace{2cm}} = 4637$ |      |      |     |     |      |      |
| $\underline{\hspace{2cm}} + \underline{\hspace{2cm}} = 3814$ | $\underline{\hspace{2cm}} + \underline{\hspace{2cm}} + \underline{\hspace{2cm}} = 6435$ |      |      |     |     |      |      |
| $\underline{\hspace{2cm}} + \underline{\hspace{2cm}} = 3949$ | $\underline{\hspace{2cm}} + \underline{\hspace{2cm}} + \underline{\hspace{2cm}} = 2426$ |      |      |     |     |      |      |
| $\underline{\hspace{2cm}} + \underline{\hspace{2cm}} = 1466$ | $\underline{\hspace{2cm}} + \underline{\hspace{2cm}} + \underline{\hspace{2cm}} = 2483$ |      |      |     |     |      |      |

3 Skriv plusstykker.

|  |   |
|--|---|
| $\underline{\hspace{2cm}} + \underline{\hspace{2cm}} = 822$  | $\underline{\hspace{2cm}} + \underline{\hspace{2cm}} + \underline{\hspace{2cm}} = 3913$ |
| $\underline{\hspace{2cm}} + \underline{\hspace{2cm}} = 915$  | $\underline{\hspace{2cm}} + \underline{\hspace{2cm}} + \underline{\hspace{2cm}} = 1908$ |
| $\underline{\hspace{2cm}} + \underline{\hspace{2cm}} = 1046$ | $\underline{\hspace{2cm}} + \underline{\hspace{2cm}} + \underline{\hspace{2cm}} = 4076$ |
| $\underline{\hspace{2cm}} + \underline{\hspace{2cm}} = 4318$ | $\underline{\hspace{2cm}} + \underline{\hspace{2cm}} + \underline{\hspace{2cm}} = 5712$ |
| $\underline{\hspace{2cm}} + \underline{\hspace{2cm}} = 7855$ | $\underline{\hspace{2cm}} + \underline{\hspace{2cm}} + \underline{\hspace{2cm}} = 9683$ |