

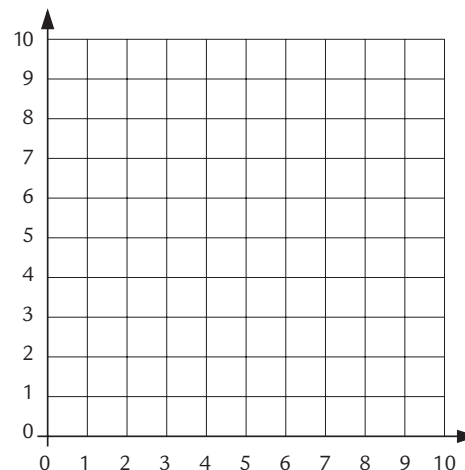
# Eftertanken

## Kopiark 50

### 1. Spørgsmål

Tegn et koordinatsystem. Tegn denne figur.

(3,1) → (4,4) → (2,6) → (4,6) → (5,9) → (6,6)  
 (8,6) → (6,4) → (6,6) → (8,6) → (6,4) → (7,1)  
 (5,3) → (3,1)



### 2. Spørgsmål

- a. Indtegn et koordinatsystem på tegningen.
- b. Skriv en tegneordre til denne figur. Brug talpar.

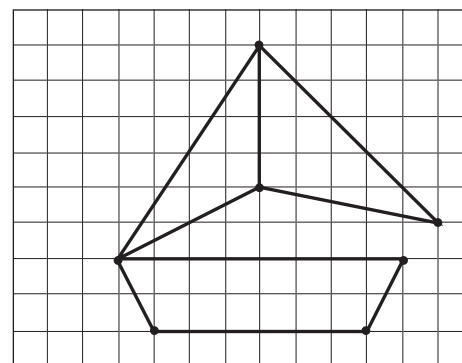
---



---



---



### 3. Spørgsmål

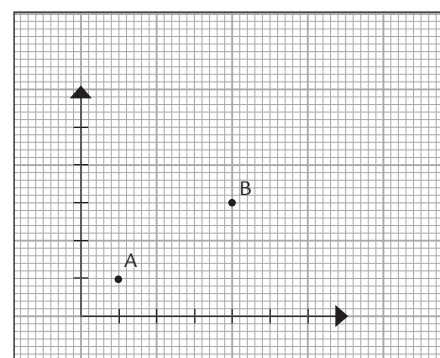
Beskriv ved hjælp af talpar fire forskellige måder at komme fra A til B.

Regel: Man skal følge stregerne lodret og vandret.

---



---



Kontext 5, Kopimappe · © L&R Uddannelse · ISBN 87 25-00166-3