

# Eftertanken

## Kopiark 52

### 1. Spørgsmål

Her er tre eksempler på at regne akvariets rumfang. Sammenlign de tre beregningsmåder.

a. Hvordan har man regnet i 1) 2) og 3)?

---



---

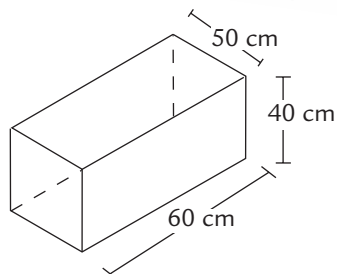
b. Er alle tre måder rigtige? Begrund dit svar.

---

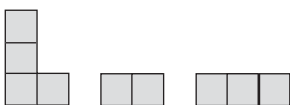


---

1)  $60 \rightarrow 2.400 \rightarrow 120.000 \text{ cm}^3$   
 2)  $60 \rightarrow 3.000 \rightarrow 120.000 \text{ cm}^3$   
 3)  $60 \rightarrow 120.000 \text{ cm}^3$

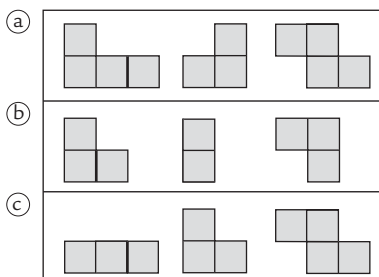
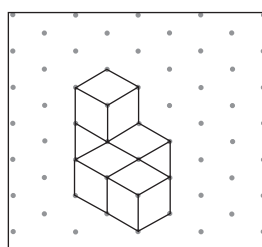



### 2. Spørgsmål



a. Tegn figuren på isometrisk papir.

b. Tegn figuren set fra tre forskellige sider.



c. Hvilken arbejdstegning passer til figuren? Begrund dit svar.

---



---



---