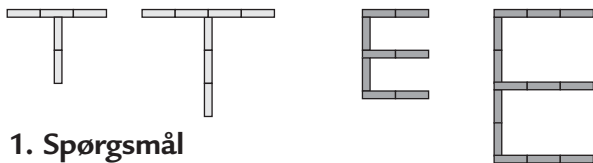


# Eftertanken

## Kopiark 54

Her er to bogstaver T og E.



### 1. Spørgsmål

a. Hvor mange blokke skal der anvendes til det: 4. bogstav? 5. bogstav? 10. bogstav?

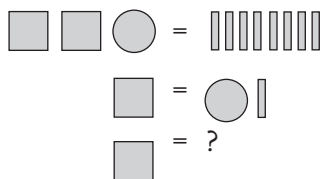
---



---

b. Prøv med andre bogstaver.

### 2. Spørgsmål



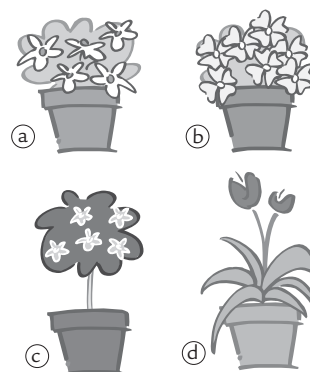
Løs gåden. Hvor mange streger svarer til et kvadrat? \_\_\_\_\_

### 3. Spørgsmål

Lisa har købt 4 blomster. Hun betaler i alt 112 kr.

Hun ved:

- at blomst (b) er tre gange så dyr som (a).
- at blomst (c) er dobbelt så dyr som blomst (b).
- at blomst (d) koster lige så meget som (a) og (b) tilsammen.



a. Hvor meget koster hver blomst?

---



---