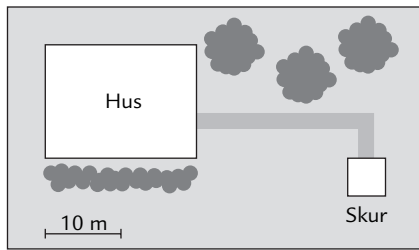


# Eftertanken

## Kopiark 46

### 1. Spørgsmål

Her ser du et kort over et hus med have.

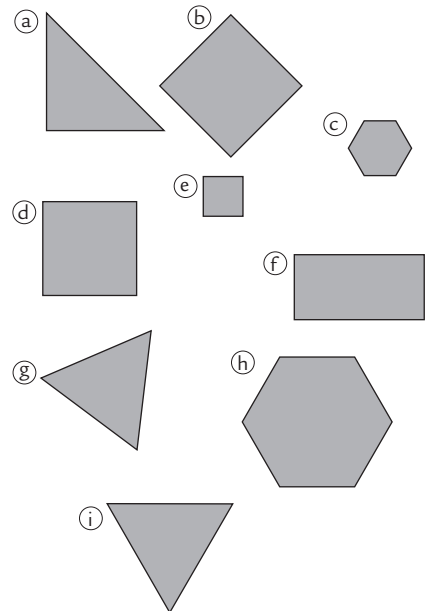


	Kort		Virkelighed	
	Længde	Bredde	Længde	Bredde
Hus				
Skur				


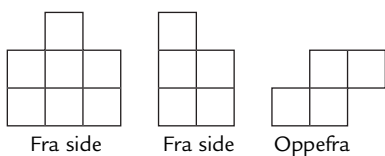
- a. Udfyld skemaet.
- b. Forklar, hvordan du fandt svaret. \_\_\_\_\_

### 2. Spørgsmål

- a. Hvilke figurer er kongruente?  
\_\_\_\_\_
- b. Hvilke figurer er ligedannede?  
\_\_\_\_\_
- c. Hvordan kan man vide, om disse figurer er kongruente?  
\_\_\_\_\_
- d. Hvordan kan man vide, om disse figurer er ligedannede?  
\_\_\_\_\_
- e. Hvilke figurer er både ligedannede og kongruente?  
\_\_\_\_\_



### 3. Spørgsmål



- a. Tegn denne figur isometrisk.
- b. Tegn figuren med et forsvindingspunkt. Brug bagsiden.
- c. Tegn figuren med to forsvindingspunkter. Brug bagsiden.